

マスマジシャンが強くなる！

トレーニングブック

『×をつける 編』

レベル 2-2

1. 2つの足し算はいくつ？
2. 2つの引き算はいくつ？
3. 2つのかけ算はいくつ？
4. 3つの足し算はいくつ？

このトレーニングブックで
練習して、無敵の力を手
に入れよう！



わくわく算数ゲーム

Curio Kids

キュリオ

キッズ

1

なまえ

ねん
年

5

質問や魔法の答えを手がかりにして、表に×をかこう。

☆れいだい☆

×の数:4

相手の数字カード

?	?	?
A	B	C

AとBの足し算
はいくつ?

7

じぶん
自分

あいて
相手

	A	B	C
0			
1			
2			
3			
4			
5			
6			
7			
8	×	×	
9	×	×	

☆だい1もん☆

×の数:?

相手の数字カード

?	?	?
A	B	C

AとBの足し算
はいくつ?

6

じぶん
自分

あいて
相手

	A	B	C
0			
1			
2			
3			
4			
5			
6			
7			
8			
9			

☆だい2もん☆

×の数:6

相手の数字カード

?	?	?
A	B	C

AとCの足し算
はいくつ?

12

じぶん
自分

あいて
相手

	A	B	C
0			
1			
2			
3			
4			
5			
6			
7			
8			
9			

☆だい3もん☆

×の数:?

相手の数字カード

?	?	?
A	B	C

BとCの足し算
はいくつ?

15

じぶん
自分

あいて
相手

	A	B	C
0			
1			
2			
3			
4			
5			
6			
7			
8			
9			

☆だい4もん☆

×の数:?

相手の数字カード

?	2	?
A	B	C

AとCの足し算
はいくつ?

8

じぶん
自分

あいて
相手

	A	B	C
0			
1		○	
2			
3			
4			
5			
6			
7			
8			
9			

☆だい5もん☆

×の数:?

相手の数字カード

?	?	5
A	B	C

AとBの足し算
はいくつ?

11

じぶん
自分

あいて
相手

	A	B	C
0			
1			
2			
3			
4			
5			○
6			
7			
8			
9			

質問や魔法の答えを手がかりにして、表に×をかこう。

☆れいだい☆

相手の数字カード

?	?	?
A	B	C

AとBの引き算はいくつ?
(大きい数から
小さい数を引く)

8

じぶん自分 あいて相手

×の数: ?

	A	B	C
0			
1			
2	×	×	
3	×	×	
4	×	×	
5	×	×	
6	×	×	
7	×	×	
8			
9			

☆だい1もん☆

相手の数字カード

?	?	?
A	B	C

AとBの引き算はいくつ?
(大きい数から
小さい数を引く)

7

じぶん自分 あいて相手

×の数: 8

	A	B	C
0			
1			
2			
3			
4			
5			
6			
7			
8			
9			

☆だい2もん☆

相手の数字カード

?	?	?
A	B	C

AとCの引き算はいくつ?
(大きい数から
小さい数を引く)

6

じぶん自分 あいて相手

×の数: ?

	A	B	C
0			
1			
2			
3			
4			
5			
6			
7			
8			
9			

☆だい3もん☆

相手の数字カード

?	5	?
A	B	C

AとBの引き算はいくつ?
(大きい数から
小さい数を引く)

3

じぶん自分 あいて相手

×の数: 8

	A	B	C
0			
1			
2			
3			
4			
5		○	
6			
7			
8			
9			

☆だい4もん☆

相手の数字カード

?	4	?
A	B	C

BとCの引き算はいくつ?
(大きい数から
小さい数を引く)

4

じぶん自分 あいて相手

×の数: ?

	A	B	C
0			
1			
2			
3			
4		○	
5			
6			
7			
8			
9			

☆だい5もん☆

相手の数字カード

?	?	3
A	B	C

AとCの引き算はいくつ?
(大きい数から
小さい数を引く)

6

じぶん自分 あいて相手

×の数: ?

	A	B	C
0			
1			
2			
3			○
4			
5			
6			
7			
8			
9			

3

なまえ

ねん
年

5

質問や魔法の答えを手がかりにして、表に×をかこう。

☆れいだい☆

相手の数字カード

?	?	?
A	B	C

AとBのかけ算
はいくつ?

3

じぶん
自分

あいて
相手

×の数:16

	A	B	C
0	×	×	
1			
2	×	×	
3			
4	×	×	
5	×	×	
6	×	×	
7	×	×	
8	×	×	
9	×	×	

☆だい1もん☆

相手の数字カード

?	?	?
A	B	C

AとBのかけ算
はいくつ?

7

じぶん
自分

あいて
相手

×の数:16

	A	B	C
0			
1			
2			
3			
4			
5			
6			
7			
8			
9			

☆だい2もん☆

相手の数字カード

?	?	?
A	B	C

AとCのかけ算
はいくつ?

4

じぶん
自分

あいて
相手

×の数:?

	A	B	C
0			
1			
2			
3			
4			
5			
6			
7			
8			
9			

☆だい3もん☆

相手の数字カード

?	?	?
A	B	C

BとCのかけ算
はいくつ?

6

じぶん
自分

あいて
相手

×の数:?

	A	B	C
0			
1			
2			
3			
4			
5			
6			
7			
8			
9			

☆だい4もん☆

相手の数字カード

?	?	?
A	B	C

AとBのかけ算
はいくつ?

12

じぶん
自分

あいて
相手

×の数:?

	A	B	C
0			
1			
2			
3			
4			
5			
6			
7			
8			
9			

☆だい5もん☆

相手の数字カード

?	?	?
A	B	C

BとCのかけ算
はいくつ?

36

じぶん
自分

あいて
相手

×の数:?

	A	B	C
0			
1			
2			
3			
4			
5			
6			
7			
8			
9			

質問や魔法の答えを手がかりにして、表に×をかこう。

☆れいだい☆

相手の数字カード

?	?	?
A	B	C

3つの足し算
はいくつ?

じぶん
自分

7

あいて
相手

×の数:6

	A	B	C
0			
1			
2			
3			
4			
5			
6			
7			
8	×	×	×
9	×	×	×

☆だい1もん☆

相手の数字カード

?	?	?
A	B	C

3つの足し算
はいくつ?

じぶん
自分

8

あいて
相手

×の数:3

	A	B	C
0			
1			
2			
3			
4			
5			
6			
7			
8			
9			

☆だい2もん☆

相手の数字カード

?	?	?
A	B	C

3つの足し算
はいくつ?

じぶん
自分

20

あいて
相手

×の数:?

	A	B	C
0			
1			
2			
3			
4			
5			
6			
7			
8			
9			

☆だい3もん☆

相手の数字カード

?	?	?
A	B	C

3つの足し算
はいくつ?

じぶん
自分

23

あいて
相手

×の数:?

	A	B	C
0			
1			
2			
3			
4			
5			
6			
7			
8			
9			

☆だい4もん☆

相手の数字カード

?	?	3
A	B	C

3つの足し算
はいくつ?

じぶん
自分

9

あいて
相手

×の数:?

	A	B	C
0			
1			
2			
3			○
4			
5			
6			
7			
8			
9			

☆だい5もん☆

相手の数字カード

4	?	?
A	B	C

3つの足し算
はいくつ?

じぶん
自分

15

あいて
相手

×の数:?

	A	B	C
0			
1			
2			
3			
4	○		
5			
6			
7			
8			
9			

マスマジシャンが強くなる！

トレーニングブック

『×をつける 編』

レベル 2-2

答え

このトレーニングブックで
練習して、無敵の力を手
に入れよう！



わくわく算数ゲーム

Curio Kids

キュリオ

キッズ

1

なまえ

ねん
年

質問や魔法の答えを手がかりにして、表に×をかこう。

☆だい1もん☆

相手の数字カード

?	?	?
A	B	C

AとBの足し算
はいくつ?

6

じぶん
自分

あいて
相手

かず
×の数: ?

	A	B	C
0			
1			
2			
3			
4			
5			
6			
7	×	×	
8	×	×	
9	×	×	

A、Bのどちらかが7~9だと、
2つの足し算は6より大きくなってしま
(例 $7+0=7$)
↓
A、Bは7~9ではない
↓
A、Bの7~9は×

☆だい2もん☆

相手の数字カード

?	?	?
A	B	C

AとCの足し算
はいくつ?

12

じぶん
自分

あいて
相手

かず
×の数: 6

	A	B	C
0	×		×
1	×		×
2	×		×
3			
4			
5			
6			
7			
8			
9			

A、Cのどちらかが0~2だと、
2つの足し算は12より小さくなってしま
(例 $2+9=11$)
↓
A、Cは0~2ではない
↓
A、Cの0~2は×

☆だい3もん☆

相手の数字カード

?	?	?
A	B	C

BとCの足し算
はいくつ?

15

じぶん
自分

あいて
相手

かず
×の数: ?

	A	B	C
0		×	×
1		×	×
2		×	×
3		×	×
4		×	×
5		×	×
6			
7			
8			
9			

B、Cのどちらかが0~5だと、
2つの足し算は15より小さくなってしま
(例 $5+9=14$)
↓
B、Cは0~5ではない
↓
B、Cの0~5は×

1

なまえ

ねん
年

質問や魔法の答えを手がかりにして、表に×をかこう。

☆だい4もん☆

相手の数字カード

?	2	?
A	B	C

AとCの足し算
はいくつ?

8

じぶん 自分 あいて 相手

×の数: ?

	A	B	C
0			
1		○	
2			
3			
4			
5			
6			
7			
8			
9	×		×

A、Cのどちらかが9だと、
2つの足し算は8より大きくなってしま
(例 $9 + 0 = 9$)
↓
A、Cは9ではない
↓
A、Cの9は×

☆だい5もん☆

相手の数字カード

?	?	5
A	B	C

AとBの足し算
はいくつ?

11

じぶん 自分 あいて 相手

×の数: ?

	A	B	C
0	×	×	
1	×	×	
2			
3			
4			
5			○
6			
7			
8			
9			

A、Bのどちらかが0~1だと、
2つの足し算は11より小さくなってしま
(例 $1 + 9 = 10$)
↓
A、Bは0~1ではない
↓
A、Bの0~1は×

2

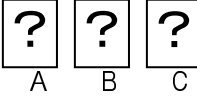
なまえ

ねん
年

質問や魔法の答えを手がかりにして、表に×をかこう。

☆だい1もん☆

相手の数字カード



AとBの引き算はいくつ?
(大きい数から
小さい数を引く)



7



×の数:8

	A	B	C
0			
1			
2			
3	×	×	
4	×	×	
5	×	×	
6	×	×	
7			
8			
9			

引き算で答えが7になる組み合わせは

9-2, 8-1, 7-0

↓

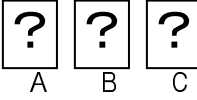
3~6を使った組み合わせは、ない

↓

A, Bの3~6は×

☆だい2もん☆

相手の数字カード



AとCの引き算はいくつ?
(大きい数から
小さい数を引く)



6



×の数:?

	A	B	C
0			
1			
2			
3			
4	×		×
5	×		×
6			
7			
8			
9			

引き算で答えが6になる組み合わせは

9-3, 8-2, 7-1, 6-0

↓

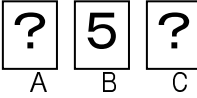
4, 5を使った組み合わせは、ない

↓

A, Cの4~5は×

☆だい3もん☆

相手の数字カード



AとBの引き算はいくつ?
(大きい数から
小さい数を引く)



3



×の数:8

	A	B	C
0	×		
1	×		
2			
3	×		
4	×		
5	×	○	
6	×		
7	×		
8			
9	×		

Bの5を使った引き算で、

答えが3になる組み合わせは

8-5, 5-2

↓

Aは、2, 8のどちらか

↓

Aの0, 1, 3~7, 9は×

2

なまえ

ねん
年

質問や魔法の答えを手がかりにして、表に×をかこう。

☆だい4もん☆

相手の数字カード

? 4 ?
A B C

BとCの引き算はいくつ?

(大きい数から
小さい数を引く)

4

じぶん
自分

あいて
相手

×の数: ?

	A	B	C
0			
1			×
2			×
3			×
4		○	×
5			×
6			×
7			×
8			
9			×

Bの4を使った引き算で、
答えが4になる組み合わせは
8-4、4-0
↓
Cは、0、8のどちらか
↓
Cの1~7、9は×

☆だい5もん☆

相手の数字カード

? ? 3
A B C

AとCの引き算はいくつ?

(大きい数から
小さい数を引く)

6

じぶん
自分

あいて
相手

×の数: ?

	A	B	C
0	×		
1	×		
2	×		
3	×		○
4	×		
5	×		
6	×		
7	×		
8	×		
9			

Cの3を使った引き算で、
答えが6になる組み合わせは
9-3
↓
Aは9
↓
Aの0~8は×

3

なまえ

ねん
年

こた
答え

質問や魔法の答えを手がかりにして、表に×をかこう。

☆だい1もん☆

相手の数字カード

?	?	?
A	B	C

AとBのかけ算
はいくつ?

じぶん
自分

7

あいて
相手

×の数:16

	A	B	C
0	×	×	
1			
2	×	×	
3	×	×	
4	×	×	
5	×	×	
6	×	×	
7			
8	×	×	
9	×	×	

かけ算で答えが7になる組み合わせは

1×7

↓

0、2~6、8、9を使った組み合わせは、ない

↓

A、Bの0、2~6、8、9は×

☆だい2もん☆

相手の数字カード

?	?	?
A	B	C

AとCのかけ算
はいくつ?

じぶん
自分

4

あいて
相手

×の数:?

	A	B	C
0	×		×
1			
2			
3	×		×
4			
5	×		×
6	×		×
7	×		×
8	×		×
9	×		×

かけ算で答えが4になる組み合わせは

$1 \times 4, 2 \times 2$

↓

0、3、5~9を使った組み合わせは、ない

↓

A、Cの0、3、5~9は×

☆だい3もん☆

相手の数字カード

?	?	?
A	B	C

BとCのかけ算
はいくつ?

じぶん
自分

6

あいて
相手

×の数:?

	A	B	C
0		×	×
1			
2			
3			
4		×	×
5		×	×
6			
7		×	×
8		×	×
9		×	×

かけ算で答えが6になる組み合わせは

$1 \times 6, 2 \times 3$

↓

0、4、5、7~9を使った組み合わせは、ない

↓

B、Cの0、4、5、7~9は×

3

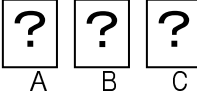
なまえ

ねん
年

質問や魔法の答えを手がかりにして、表に×をかこう。

☆だい4もん☆

相手の数字カード



AとBのかけ算
はいくつ?

12



×の数: ?

	A	B	C
0	×	×	
1	×	×	
2			
3			
4			
5	×	×	
6			
7	×	×	
8	×	×	
9	×	×	

かけ算で答えが12になる組み合わせは
 $2 \times 6, 3 \times 4$

↓

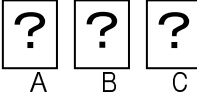
0、1、5、7~9を使った組み合わせは、ない

↓

A、Bの0、1、5、7~9は×

☆だい5もん☆

相手の数字カード



BとCのかけ算
はいくつ?

36



×の数: ?

	A	B	C
0		×	×
1		×	×
2		×	×
3		×	×
4			
5		×	×
6			
7		×	×
8		×	×
9			

かけ算で答えが36になる組み合わせは
 $4 \times 9, 6 \times 6$

↓

0~3、5、7、8を使った組み合わせは、ない

↓

B、Cの0~3、5、7、8は×

4

なまえ

ねん
年

質問や魔法の答えを手がかりにして、表に×をかこう。

☆だい1もん☆

相手の数字カード

?	?	?
A	B	C

3つの足し算
はいくつ?

じぶん
自分

8

あいて
相手

×の数: 3

	A	B	C
0			
1			
2			
3			
4			
5			
6			
7			
8			
9	×	×	×

A、B、Cのどれかが9だと、
3つの足し算は8より大きくなってしま
(例 $9+0+0=9$)
↓
A、B、Cは9ではない
↓
A、B、Cの9は×

☆だい2もん☆

相手の数字カード

?	?	?
A	B	C

3つの足し算
はいくつ?

じぶん
自分

20

あいて
相手

×の数: ?

	A	B	C
0	×	×	×
1	×	×	×
2			
3			
4			
5			
6			
7			
8			
9			

A、B、Cのどれか1つが0~1だと、
他の2つが、9でも、
3つの足し算は20より小さくなってしま
(例 $1+9+9=19$)
↓
A、B、Cは0~1ではない
↓
A、B、Cの0~1は×

☆だい3もん☆

相手の数字カード

?	?	?
A	B	C

3つの足し算
はいくつ?

じぶん
自分

23

あいて
相手

×の数: ?

	A	B	C
0	×	×	×
1	×	×	×
2	×	×	×
3	×	×	×
4	×	×	×
5			
6			
7			
8			
9			

A、B、Cのどれか1つが0~4だと、
他の2つが、9でも、
3つの足し算は23より小さくなってしま
(例 $4+9+9=22$)
↓
A、B、Cの0~4は×

4

なまえ

ねん
年

質問や魔法の答えを手がかりにして、表に×をかこう。

☆だい4もん☆

相手の数字カード

?	?	3
A	B	C

3つの足し算
はいくつ?

じぶん
自分

9

あいて
相手

×の数: ?

	A	B	C
0			
1			
2			
3			○
4			
5			
6			
7	×	×	
8	×	×	
9	×	×	

A、Bのどちらかが7~9だと、
3つの足し算は9より大きくなってしま
(例 $7+0+C(3)=10$ 、
 $9+0+C(3)=12$)

↓
A、Bは7~9ではない
↓
A、Bの7~9は×

☆だい5もん☆

相手の数字カード

4	?	?
A	B	C

3つの足し算
はいくつ?

じぶん
自分

15

あいて
相手

×の数: ?

	A	B	C
0		×	×
1		×	×
2			
3			
4	○		
5			
6			
7			
8			
9			

B、Cのどちらかが0~1だと、
3つの足し算は15より小さくなってしま
(例 $A(4)+0+9=13$ 、
 $A(4)+1+9=14$)

↓
B、Cは0、1ではない
↓
B、Cの0、1は×